

**Instituto Federal de Educação, Ciência e Tecnologia do Rio Grande do Norte**  
**Pró-Reitoria de Ensino**  
**Coordenação de Acesso Discente**

**CURSOS TÉCNICOS DE NÍVEL MÉDIO NA FORMA INTEGRADA NA MODALIDADE  
EDUCAÇÃO DE JOVENS E ADULTOS**

**(PROEJA)**

**EDITAL Nº. 12/2019 - PROEN/IFRN**




**ORIENTAÇÕES**

- ✧ Verifique se seu caderno de provas contém 01 texto, 20 questões (10 de Língua Portuguesa e 10 de Matemática) e uma orientação para produção textual.
- ✧ Leia com bastante atenção os textos deste caderno.
- ✧ Leia com bastante atenção cada questão antes de responder.
- ✧ Lembre-se de que, para cada questão, existe apenas uma resposta certa.
- ✧ Transfira suas respostas para o Cartão de Respostas somente quando não for mais modificá-las.
- ✧ Leia cuidadosamente a orientação e os critérios de correção para a produção escrita.

**Candidato:**

**Nº de Inscrição:**



**MAIO 2019**

---

## TRAGÉDIA EM SUZANO: precisamos falar do acesso a armas de fogo

Por Dagmara Spautz  
13/03/2019

A tragédia ocorrida na manhã desta quarta-feira, em Suzano, na Grande SP, em que adolescentes mataram seis pessoas – entre elas cinco crianças – e cometeram suicídio em seguida, reacende as discussões sobre a facilitação do acesso a armas de fogo no Brasil. As circunstâncias da ocorrência ainda são desconhecidas nesse final de manhã. Mas não há como deixar de relacionar o caso a outros tantos, que tiveram o mesmo final trágico.

Nos Estados Unidos, onde ocorrências como essa são assustadoramente frequentes, há movimentos pedindo a restrição de acesso a armas. Em 2017, por exemplo, a associação Gun Violence Archive (GVA), que reúne dados do governo e das forças de segurança, mostrou que o país registrou 273 ataques de atiradores em 275 dias. Só no primeiro semestre do ano passado, 40 pessoas morreram nos EUA nessas circunstâncias.

Os números do país, que tem mais de 393 milhões de armas registradas, para 325 milhões de habitantes, servem de alerta ao Brasil e comprovam que, a rigor, armar a população não garante redução na mortalidade. Pelo contrário: a experiência norte-americana mostra um alto número de suicídios, por exemplo.

Muitos lembrarão que, nas mãos de criminosos, temos um oceano de armas, que servem a assaltos, latrocínios, ameaças. Mas precisamos ter em mente que são armamentos ilegais, passíveis de apreensão. Se não conseguimos controlá-los, aí deveria estar o nosso foco.

As prometidas medidas do governo para simplificar o acesso às armas no Brasil foram mais discretas do que se esperava, pois foram mantidas restrições importantes, embora haja pressão popular – e *lobby* – para derrubá-las.

Enlutemo-nos, lamentemos. Num momento de comoção como o de hoje, quando crianças saíram de casa para estudar e perderam a vida, em que adolescentes decidiram abrir fogo contra uma escola e dar cabo à própria vida depois, essa é uma reflexão tão necessária quanto urgente.

Disponível em: <https://www.nsctotal.com.br/colunistas/dagmara-spautz/tragedia-em-suzano-precisamos-falar-do-acesso-a-armas-de-fogo>.  
Acesso em: 20/04/2019.



---

### 1) A intenção comunicativa dominante no texto é

- narrar tragédias ocorridas em escolas brasileiras pelo uso de armas de fogo.
- descrever a tragédia ocorrida em Suzano com o uso de armas de fogo por adolescentes.
- explicar as causas de tragédias ocorridas pelo uso de armas de fogo em escolas brasileiras e estrangeiras.
- argumentar para mostrar os riscos da liberalização do uso de armas de fogo para ocorrências de tragédias como a de Suzano.

### 2) Quanto ao gênero discursivo, o texto configura-se como

- artigo de informação.
- artigo de opinião.
- reportagem.
- notícia.

**3) O título do texto antecipa um ponto de vista que será ratificado no**

- a) primeiro parágrafo.
- b) segundo parágrafo.
- c) penúltimo parágrafo.
- d) último parágrafo.

**4) De acordo com o texto, é correto afirmar que**

- a) existe país em que acontece cotidianamente esse tipo de tragédia com uso de arma de fogo.
- b) as discussões sobre a liberalização de acesso a armas de fogo nunca existiram antes no Brasil.
- c) no Brasil, muitas armas ilegais que se encontram nas mãos de assaltantes e latrocidistas estão em processo de apreensão.
- d) no Brasil, a pressão popular fez com que as regras de restrição ao acesso a armas de fogo fossem enriquecidas pelo governo.

**Considere o trecho para responder às questões de 05 a 08.**

Enlutemo-nos, **lamentemos**. Num momento de **comoção** como o de hoje, quando crianças saíram de casa para estudar e perderam a vida, **em que** adolescentes decidiram abrir fogo contra uma escola e dar cabo à própria vida depois, essa é uma reflexão tão necessária quanto urgente.

**5) O sujeito da forma verbal LAMENTEMOS é do tipo**

- a) indeterminado.
- b) inexistente.
- c) composto.
- d) elíptico.

**6) O elemento linguístico E apresenta ideia de**

- a) adição.
- b) oposição.
- c) conclusão.
- d) explicação.

**7) O elemento linguístico EM QUE se refere a**

- a) casa.
- b) crianças.
- c) momento.
- d) adolescentes.

**8) Mantendo seu sentido original, a palavra COMOÇÃO pode ser substituída por**

- a) medo.
- b) aflição.
- c) enlevo.
- d) regozijo.

**Considere o trecho a seguir para responder às questões de 09 e 10.**


As prometidas medidas do governo para simplificar o acesso às armas no Brasil foram mais discretas do que se esperava, pois foram mantidas restrições importantes, **embora** haja pressão popular – e *lobby* – para derrubá-las.

**9) O elemento linguístico EMBORA liga**

- a) frases, estabelecendo relação de explicação.
- b) parágrafos, estabelecendo relação de oposição.
- c) períodos, estabelecendo uma relação de adição.
- d) orações, estabelecendo uma relação de concessão.

**10) O elemento linguístico LAS retoma**

- a) restrições.
- b) discretas.
- c) medidas.
- d) armas.



Considere o trecho a seguir para responder às questões de 11 e 12.

Em 2017, por exemplo, a associação Gun Violence Archive (GVA), que reúne dados do governo e das forças de segurança, mostrou que o país registrou 273 ataques de atiradores em 275 dias. Só no primeiro semestre do ano passado, 40 pessoas morreram nos EUA nessas circunstâncias.

**11) Supondo que a proporção seja mantida e que, em 275 dias, houve 273 ataques de atiradores, a quantidade de ataques que haveria em 3300 dias seria de**

- a) 3200.
- b) 3250.
- c) 3276.
- d) 3298.

**12) Se, no primeiro semestre do ano passado, supondo meses de 30 dias, 40 pessoas morreram nessas circunstâncias, nos EUA, teríamos uma morte violenta a cada 4 dias e meio. Assim, ainda considerando meses de 30 dias, o número de mortes que ocorreria a cada 225 dias seria de**

- a) 30.
- b) 50.
- c) 60.
- d) 80.

Considere o trecho para responder à questão de 13.

Os números do país que tem mais de 393 milhões de armas registradas, para 325 milhões de habitantes, servem de alerta ao Brasil e comprovam que, a rigor, armar a população não garante redução na mortalidade. Pelo contrário: a experiência norte-americana mostra um alto número de suicídios, por exemplo.

**13) Segundo o trecho acima, é possível afirmar que, dentre as alternativas a seguir, a que mais se aproxima do número de armas por habitante nos EUA é**

- a) 0,50.
- b) 1,10.
- c) 1,21.
- d) 1,50.

14) Como parte de uma campanha contra a violência em um *campus* do IFRN, localizado fora da capital, realizou-se uma movimentação nas ruas da cidade. Nessa ação, compareceram 60 servidores e 150 estudantes, além de 90 pessoas da comunidade externa. Com esses números, é possível dizer que o quantitativo de servidores representou, em relação ao total de presentes à ação, um percentual de

- a) 20%.
- b) 30%.
- c) 50%.
- d) 60%.

15) Dados do Instituto de Pesquisa Econômica Aplicada, IPEA, indicam que, em 2016, o Brasil alcançou a marca histórica de 62.517 homicídios, segundo informações do Ministério da Saúde. Isso equivale a uma taxa de 30,3 mortes para cada 100 mil habitantes, que corresponde a 30 vezes a taxa da Europa. Apenas nos últimos dez anos, 553 mil pessoas perderam suas vidas devido à violência intencional no Brasil. Ao mesmo tempo, dados do IBGE indicam uma população brasileira muito próxima de 210 milhões de pessoas. Com base nesses números descritos, se o número de homicídios de 2016 se repetisse hoje, o percentual de pessoas que perderiam suas vidas para a violência intencional em nosso país seria, aproximadamente, de

- a) 0,03%.
- b) 0,05%.
- c) 0,07%.
- d) 0,09%.

16) Em um estado do nosso país, houve uma assembleia para escolher o presidente de uma associação de defesa dos direitos civis. Nessa assembleia, com 200 votantes, dois candidatos disputaram a presidência da associação. O candidato eleito obteve 53 votos a mais do que o derrotado, mas 21 votos foram anulados e não houve votos em branco. Diante dessa situação, podemos afirmar, com segurança, que a quantidade de votos do vencedor da eleição é igual a

- a) 153.
- b) 137.
- c) 120.
- d) 116.

17) Em um dos *campi* do IFRN, para uma ação de integração na luta contra a violência urbana, decidiu-se realizar uma gincana entre dois cursos, um de Informática e outro de Gestão Ambiental, com perguntas relacionadas ao tema central. Nessa gincana, todas as equipes devem ter número igual de componentes. Foram selecionados 72 alunos do curso de Informática e 99 alunos do curso de Gestão Ambiental. Formadas as equipes, todo aluno deverá participar e apenas com pessoas do seu curso. Com essas informações, podemos dizer que as quantidades de membros das equipes dos cursos de Informática e de Gestão, respectivamente, serão

- a) 6 e 15.
- b) 7 e 8.
- c) 8 e 11.
- d) 9 e 13.

18) Numa cidade de 300.000 habitantes, com alto índice de violência, a prefeitura promove uma corrida, chamada MEIA MARATONA DA PAZ. A organização do evento conseguiu inscrever seis mil atletas para participar na prova. O vencedor completou a prova em 01 hora, 14 minutos e 39 segundos. Se essa MEIA MARATONA DA PAZ teve início exatamente às 6 horas, 19 minutos e 23 segundos, o vencedor cruzou a linha de chegada às

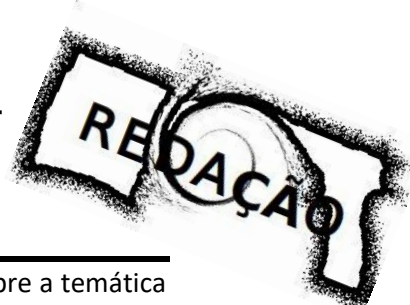
- a) 7 horas, 14 minutos e 20 segundos.
- b) 7 horas, 25 minutos e 02 segundos.
- c) 7 horas, 30 minutos e 59 segundos.
- d) 7 horas, 34 minutos e 02 segundos.

19) Um grupo de estudantes resolveu sair às ruas e recolher assinaturas para um abaixo-assinado contra a violência em sua cidade. Com isso, conseguiram 3000 assinaturas em 6 horas. Mantendo esse ritmo, conseguirão 4000 assinaturas em

- a) 10 horas.
- b) 8 horas.
- c) 6 horas.
- d) 4 horas.

20) Um grupo de 52 pessoas realizou uma viagem de ônibus para participar de um protesto pacífico contra o alto número de assaltos ocorridos em sua cidade e na cidade vizinha, onde ocorreria a manifestação. Dentre os viajantes, 42 têm conhecidos que foram assaltados e 14 têm conhecidos que foram agredidos fisicamente, mas 5 não têm nem conhecidos que foram assaltados e nem conhecidos que foram agredidos fisicamente. Nesse ônibus, o número de pessoas que tanto têm conhecidos que foram assaltados quanto têm conhecidos que foram agredidos fisicamente é igual a

- a) 9.
- b) 5.
- c) 4.
- d) 3.



#### PROPOSTA DE PRODUÇÃO TEXTUAL

Considerando os textos desta prova e os seus conhecimentos prévios sobre a temática em foco, escreva um **artigo de opinião** em que se posicione sobre a seguinte questão: **armar a população garante a redução da criminalidade no país?**

#### ORIENTAÇÃO PARA A PRODUÇÃO ESCRITA

Ao redigir sua resposta, use, preferencialmente, caneta esferográfica preta, escreva com letra legível, identifique-se apenas no local indicado.

Você poderá utilizar as informações presentes na prova, sem, no entanto, se limitar a copiar trechos desta avaliação. Além disso, não faça desenhos e/ou marcas na Folha de Resposta da questão discursiva.