

Instituto Federal de Educação, Ciência e Tecnologia do Rio Grande do Norte

Pró-Reitoria de Ensino

Coordenação de Acesso Discente

CURSO TÉCNICO DE NÍVEL MÉDIO NA FORMA INTEGRADA

AO ENSINO MÉDIO

Edital 29/2018-PROEN/IFRN



ORIENTAÇÕES

- ✓ Verifique se seu caderno de provas contém 04 textos, 40 questões (20 de Língua Portuguesa e 20 de Matemática) e uma orientação para produção textual.
- ✓ Leia com bastante atenção os textos deste caderno.
- ✓ Leia com bastante atenção cada questão antes de responder.
- ✓ Lembre-se de que, para cada questão, existe apenas uma resposta certa.
- ✓ Transfira suas respostas para o Cartão de Respostas somente quando não for mais modificá-las.
- ✓ Leia cuidadosamente a orientação e os critérios de correção para a produção escrita.

Outubro/2018

TEXTO 1

7 MITOS SOBRE REFUGIADOS

Vários países ocidentais, entre eles o Brasil, estão recebendo fluxos de migrantes e de refugiados, e as reações contrárias aos recém-chegados se multiplicam. Mas a vinda deles pode representar boas notícias para quem os recebe.

Por: Unescopress

Hoje o mundo é a casa do maior número de migrantes e refugiados de que se tem registro em qualquer outro momento da história. Tal situação traz desafios **complexos** para muitos países que tentam gerenciar esse fluxo e acolher com sucesso os novos cidadãos.

Esses desafios se agravam com a falta de informações precisas e acessíveis na mídia, em que mitos e informações incorretas prevalecem. No pior dos casos, o foco está nos desafios envolvidos ou numa ameaça imaginária de um fluxo repentino de estrangeiros. Faltam quase que por completo na cobertura midiática as múltiplas vantagens para os países que acolhem e as inúmeras histórias de indivíduos, muitas vezes, com alto nível de estudos e ávidos por trabalhar, que buscam uma nova vida e contribuem positivamente para as sociedades que os recebem.

A Unesco criou um curso para escolas de jornalismo e mídia: "Reporting Migration with a Focus on Refugees" (Reportar a imigração com foco nos refugiados, em tradução livre). O curso é focado na promoção de parcerias que permitam uma visão mais equilibrada da situação. A seguir, estão alguns dos mitos mais comuns e prejudiciais sobre os refugiados.

1) OS REFUGIADOS SÃO UM PROBLEMA EUROPEU.

A Europa acolhe apenas 6% dos refugiados globais, comparados com 39% no Oriente Médio e Norte da África e 29% no resto da África. A grande maioria dos refugiados sírios está em países vizinhos, como Turquia, Líbano, Jordânia e Iraque. Mais de 1 milhão de refugiados chegaram à Europa por mar em 2015, o que representa apenas 0,3% da população total europeia.

NÚMEROS REAIS

6% dos refugiados estão na Europa. O Oriente Médio e o Norte da África abrigam 39%; o restante da África, 29%.

75% dos refugiados sírios são mulheres e crianças.

1/3 do crescimento econômico em alguns países entre 2007 e 2013, aproximadamente, é atribuído aos refugiados.

1 emprego é criado para cada emprego ocupado por um refugiado.

Fontes: Unesco, Acnur, OCDE.

2) OS REFUGIADOS NÃO ESTÃO DESESPERADOS. ESTÃO ESCOLHENDO MIGRAR.

Por definição, refugiados são pessoas que fogem cruzando fronteiras para escapar de conflitos violentos ou de perseguição. Eles estão fazendo uso de seu direito legal ao asilo, que consta na Declaração Universal de Direitos Humanos. Todos nós temos esse direito como garantia se algum dia ele se fizer necessário. Os enormes riscos pessoais que os refugiados assumem ao escaparem testemunham a gravidade da situação em que se encontram. Os migrantes são de uma categoria mais ampla, que inclui aqueles que migram por razões econômicas e pessoas buscando escapar de desastres ambientais

e da fome.

3) A MAIORIA DOS REFUGIADOS SÃO HOMENS JOVENS E FISICAMENTE APTOS.

Segundo o Alto Comando das Nações Unidas para Refugiados (Acnur), mais de 75% dos refugiados sírios são mulheres e crianças. Dos refugiados que chegaram à Europa em 2016, mais da metade eram mulheres e crianças.

4) OS REFUGIADOS ROUBAM OS EMPREGOS DO PAÍS DE ACOLHIMENTO.

Os refugiados criam empregos. De acordo com uma pesquisa da Organização para a Cooperação e Desenvolvimento Econômico (OCDE), refugiados expandem o mercado doméstico e criam um emprego para cada vaga que ocupam. Em alguns países, eles respondem por quase um terço do crescimento econômico entre 2007 e 2013.

5) OS REFUGIADOS E OS MIGRANTES FRAUDAM O SISTEMA SOCIAL.

A maioria dos refugiados paga mais aos cofres públicos do que retira deles. Pesquisas feitas em Portugal, Espanha, Reino Unido, Canadá, Alemanha e Grécia mostram que os refugiados são menos ou igualmente dependentes dos fundos públicos em relação aos moradores locais.

6) OS REFUGIADOS E OS MIGRANTES TRAZEM O TERRORISMO.

Dos ataques terroristas no mundo, durante os últimos anos, a vasta maioria foi feita por cidadãos nascidos nos países envolvidos. “Não é o fluxo de refugiados que causa o terrorismo, são o terrorismo, a tirania e a guerra que criam os refugiados”, afirma Antônio Guerra, secretário-geral da ONU. Criar

divisões entre as pessoas e estimular o ódio entre grupos é parte da estratégia do terrorismo, em primeiro lugar.

7) OS PAÍSES DESENVOLVIDOS SÃO SUPERPOPULOSOS E NÃO PODEM ACOLHER MAIS PESSOAS.

O crescimento da população nativa na maioria dos países desenvolvidos está em declínio, um problema que pode ter os fluxos migratórios como solução. Refugiados e migrantes podem sustentar os níveis populacionais e trazer uma base de pessoas em idade produtiva para sustentar o número crescente de aposentados dos países que os recebem.

Fonte: Revista Planeta, ano 27, edição 542, 2018, p. 54-55.

TEXTO 2



Disponível em: <<https://brainly.com.br/tarefa/14561040>>. Acesso em: 25

1) O Texto 1

- afirma que a Europa é o continente que mais recebe refugiados.
- desconstrói ideias que circulam na mídia sobre refugiados e migrantes.
- argumenta que a migração em massa de refugiados causa o terrorismo.
- mostra que o sistema social dos países que acolhe refugiados é fraudado.

2) De acordo com o Texto 1,

- as informações incorretas que prevalecem na mídia aumentam o fluxo de estrangeiros nos países mais desenvolvidos.
- a ausência de informações claras e de fácil acesso veiculadas pela mídia pioram os desafios dos países que recebem imigrantes.
- as vantagens para os países que acolhem imigrantes são amplamente divulgadas pela mídia, porém isso não os ajuda a vencer os desafios.
- a história de vida dos imigrantes, o alto nível de estudos, que muitas vezes apresentam, influenciam o acolhimento nos países que os recebem.



3) De acordo com o Texto 1,

- a) a maioria dos refugiados são homens jovens e ativos e representam 75% da população da síria.
- b) o fluxo de refugiados tem sido responsável pelo aumento do terrorismo nas grandes cidades.
- c) os refugiados possuem o direito legal ao asilo conforme determina legislação internacional.
- d) os imigrantes, em sua maioria, deslocam-se de seus países de origem por razões políticas.

4) O mito de que os refugiados são um problema europeu NÃO se sustenta porque a Europa recebe

- a) poucos imigrantes, 6% dos refugiados globais.
- b) poucos imigrantes, apenas aqueles que chegam por mar.
- c) mais refugiados do que o Oriente Médio e Norte da África.
- d) mais imigrantes sírios do que Turquia, Líbano, Jordânia e Iraque.

5) Os mitos que o Texto 1 apresenta

- a) censuram os refugiados.
- b) condenam a migração no mundo.
- c) estimulam a migração no mundo.
- d) estigmatizam os refugiados.

6) O antônimo da palavra COMPLEXOS, destacada no primeiro parágrafo do Texto 1, é

- a) difíceis.
- b) simples.
- c) ingênuos.
- d) complicados.

7) O quadro *Números Reais*, presente no Texto 1

- a) destaca os sete mitos.
- b) faz um resumo do texto.
- c) reforça informações do texto.
- d) acrescenta informações ao texto.

8) Segundo o Texto 1, os vocábulos REFUGIADOS e MIGRANTES

- a) são sinônimos entre si e podem ser usados indistintamente.
- b) são antônimos entre si e não podem ser usados indistintamente.
- c) referem-se a pessoas que saem de seu país de forma involuntária.
- d) referem-se a pessoas que saem de seu país por causas distintas.

Considere o trecho e as afirmações a seguir para responder à questão 9.

Eles estão fazendo uso de seu direito legal ao asilo, que consta na Declaração Universal de Direitos Humanos. Todos nós temos esse direito como garantia se algum dia ele se fizer necessário.

- I. A expressão ESSE DIREITO retoma O DIREITO LEGAL AO ASILO.
- II. O vocábulo ELE retoma ESSE DIREITO.
- III. Ambos os vocábulos SE têm valor de conjunção.
- IV. Um dos vocábulos SE tem valor de partícula apassivadora.

9) Estão corretas apenas

- a) I e II.
- b) II e III.
- c) III e IV.
- d) I e IV.

Leia o trecho a seguir para responder às questões 10, 11, 12 e 13.

Segundo o Alto Comando das Nações Unidas para Refugiados (Acnur), mais de 75% dos refugiados sírios são mulheres e crianças. Dos refugiados que chegaram à Europa em 2016, mais da *metade* eram mulheres e crianças.

10) Sintaticamente, o trecho se constitui de

- a) três períodos compostos por subordinação.
- b) dois períodos compostos por coordenação.
- c) dois períodos compostos e um simples.
- d) um período simples e um composto.

11) Assinale a opção que apresenta, respectivamente, a classificação sintática das três expressões sublinhadas no trecho.

- a) sujeito, sujeito, complemento adverbial.
- b) sujeito, predicado, complemento nominal.
- c) complemento verbal, complemento verbal, sujeito.
- d) complemento verbal, sujeito, complemento adverbial.

12) Os vocábulos SÍRIOS e QUE, em destaque no trecho, respectivamente, têm valor de

- a) adjetivo e adjetivo.
- b) adverbial e adjetivo.
- c) adjetivo e substantivo.
- d) adverbial e substantivo.

13) O vocábulo SEGUNDO, sem alteração no sentido do trecho, pode ser substituído por

- a) como.
- b) devido.
- c) conforme.
- d) mediante.

14) Assinale a opção em que a palavra forma o plural igualmente ao do vocábulo NAÇÕES.

- a) coração.
- b) cidadão.
- c) capitão.
- d) órfão.

15) Os textos 1 e 2 possuem em comum

- a) o gênero textual.
- b) a temática.
- c) o tipo textual.
- d) a intenção comunicativa.

16) O Texto 2 configura-se como uma

- a) charge, pois usa o humor para fazer uma denúncia atual.
- b) tirinha, pois descreve a situação do migrante haitiano.
- c) tirinha, pois usa o humor e apresenta personagens.
- d) charge, pois narra um fato do cotidiano.

17) O Texto 2 tem como intenção comunicativa principal

- a) criticar o fato de a Europa não acolher os imigrantes como o Brasil faz com os imigrantes haitianos.
- b) argumentar que brasileiros e europeus não podem acolher todos os imigrantes que ingressam no país.
- c) argumentar que os brasileiros não deveriam acolher os haitianos já que os europeus também não acolhem imigrantes.
- d) criticar o fato de os brasileiros se preocuparem com os imigrantes na Europa sem acolher os imigrantes haitianos no Brasil.

18) A partir da leitura das linguagens verbal e não verbal, assinale a opção que apresenta a conclusão do Texto 2 construída pela leitura.

- a) O haitiano é pé frio.
- b) Macaco não olha o rabo.
- c) Isso é um chove não molha.
- d) O Brasil *trollou* os haitianos.

Considere o uso da vírgula no trecho a seguir para responder à questão 19.

No pior dos casos, o foco está nos desafios envolvidos ou numa ameaça imaginária de um fluxo repentino de estrangeiros.

19) Assinale a opção em que a vírgula foi usada pelo mesmo motivo do exemplo acima.

- a) Eles estão fazendo uso de seu direito legal ao asilo, que consta na Declaração Universal de Direitos Humanos.
- b) A Europa acolhe apenas 6% dos refugiados globais, comparados com 39% no Oriente Médio e Norte da África e 29% no resto da África.
- c) Pesquisas feitas em Portugal, Espanha, Reino Unido, Canadá, Alemanha e Grécia mostram que os refugiados são menos ou igualmente dependentes dos fundos públicos em relação aos moradores locais.
- d) Em alguns países, eles respondem por quase um terço do crescimento econômico entre 2007 e 2013.

20) No Texto 2, a expressão VIRAR AS COSTAS significa

- a) indignação.
- b) indiferença.
- c) espanto.
- d) fuga.

21) Conforme o Texto 1, mais de 1 milhão de refugiados chegaram à Europa pelo mar em 2015. Uma possível representação, em notação científica, dessa quantidade de refugiados, é dada por


- a) $1,0 \cdot 10^6$.
- b) $1,2 \cdot 10^6$.
- c) $2,4 \cdot 10^5$.
- d) $4,1 \cdot 10^4$.

22) De acordo com o Texto 1, a população nativa, na maioria dos países desenvolvidos, está em declínio. Suponha que a equação que descreve esse declínio, em função do tempo, seja dada por $f(t) = -10^3 \cdot t^2 - 10^4 \cdot t + 10^6$ ($0 \leq t \leq 27$), em que t é o tempo, em anos. Sabendo disso, a população nativa após 10 anos, será de

- a) $1,8 \cdot 10^6$.
- b) $5 \cdot 10^6$.
- c) $7,5 \cdot 10^5$.
- d) $8 \cdot 10^5$.

23) Segundo o Texto 1, a Unesco criou um curso para escolas de jornalismo e mídia: “*Reporting Migration with a Focus on Refugees* (Reportar a Imigração com foco nos refugiados, em tradução livre)”. Suponha que, em determinado mês, 200 alunos se inscreveram para o curso, e que, estudando 8 horas por dia, produzem, todos juntos, 40 artigos em um único dia. Por razões indeterminadas, 80 desses estudantes saíram do curso e a jornada de estudo passou a ser de 6 horas diárias. Suponha também que o ritmo de estudo e produção de artigos de cada aluno continue o mesmo. Nessas condições, o número de artigos produzidos, em um dia, passou a ser de

- a) 12.
- b) 15.
- c) 18.
- d) 25.



24) Segundo o Texto 1, um emprego é criado para cada emprego ocupado por um refugiado. Sabendo que, em determinada cidade que recebeu refugiados, foram criados 200 empregos e que apenas metade dos refugiados recebidos por essa cidade, que estavam aptos a trabalhar, ocuparam uma vaga. O total de refugiados recebidos por essa cidade foi de

- a) 100.
- b) 200.
- c) 300.
- d) 400.

25) Um dos países que mais recebe refugiados na Europa é a Alemanha. Sabendo que ela cresceu 2,2% em 2016 e admitindo, conforme o Texto 1, que $\frac{1}{3}$ desse crescimento se deveu aos refugiados inseridos na economia alemã, o crescimento percentual atribuído aos imigrantes, aproximadamente, é de

- a) 0,63%.
- b) 0,73%.
- c) 0,83%.
- d) 0,93%.

26) Considerando que 75% dos refugiados sírios são mulheres e crianças. Representando os refugiados sírios em um gráfico de pizza e sombreando a área correspondente ao percentual de mulheres e crianças, o gráfico que melhor representa esses refugiados é



27) O estado de Roraima é a principal porta de entrada dos imigrantes que fogem da crise na Venezuela. Para aliviar a superpopulação da cidade de Boa Vista, o governo federal iniciou a operação de interiorização de venezuelanos para outras regiões do Brasil. A Tabela 1 mostra distribuição de um grupo de 189 venezuelanos, entre homens e mulheres, em três cidades do Brasil. Escolhendo-se ao acaso uma pessoa desse grupo, a probabilidade de essa pessoa ser do sexo feminino e ter sido distribuída para João Pessoa é igual a

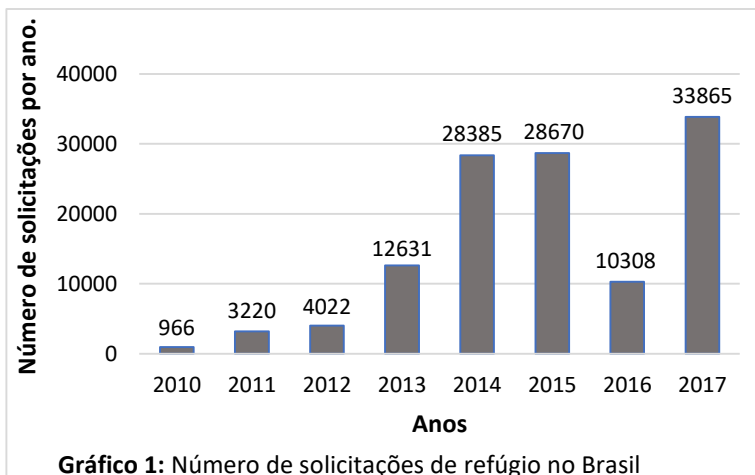
- a) $\frac{10}{23}$.
- b) $\frac{10}{63}$.
- c) $\frac{10}{69}$.
- d) $\frac{10}{108}$.

Tabela 1: distribuição de venezuelanos por cidades brasileiras.

	SÃO PAULO	JOÃO PESSOA	MANAUS	Total
Homens	23	39	19	81
Mulheres	30	30	48	108
Total	53	69	67	189

As questões 28 e 29 deverão ser respondidas com base no trecho abaixo e nos gráficos 1 e 2.

Para apresentar um trabalho sobre refugiados, um grupo de alunos coletou alguns dados junto ao Comitê Nacional para os Refugiados (CONARE) e mostrou as informações mais importantes no Gráfico 1 e no Gráfico 2.



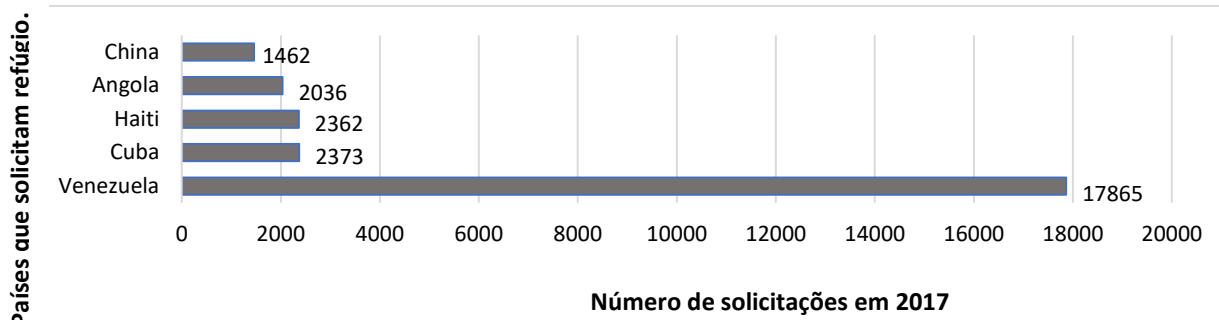


Gráfico 2: Países com mais solicitações de refúgio feitos no Brasil, em 2017.

Fonte: Disponível em: <https://g1.globo.com/mundo/noticia/brasil-registra-numero-recorde-de-solicitacoes-de-refugio-em-2017.ghtml>. Acesso em: 29 set. 2018.

28) Segundo o Gráfico 1,

- o número de solicitações de refúgio, em 2017, representa mais que o triplo de pedidos em 2016.
- os anos de 2014 e 2015 apresentam os mesmos números de solicitações de refúgio.
- o número de solicitações de refúgio permaneceu sempre crescente de 2010 a 2017.
- o menor número de solicitações de refúgio aconteceu em um ano ímpar.

29) De acordo com os gráficos 1 e 2, o percentual aproximado de solicitações de refúgio feitas pela Venezuela ao Brasil, no ano de 2017, foi de

- 38,66%.
- 45,70%.
- 52,75%.
- 55,60%.

As questões 30 e 31 deverão ser respondidas com base no trecho abaixo

O refúgio é um direito de estrangeiros garantido por uma convenção da ONU de 1951 e ratificada por lei no Brasil em 1997. O Brasil tem hoje, entre os refugiados em seu território, habitantes de seis das sete nacionalidades barradas pelo presidente dos Estados Unidos, Donald Trump. São 2.480 sírios, 281 iraquianos, 65 sudaneses, 60 iranianos, 44 somalis, 2 líbios e nenhum registro de nativos vindos do Iêmen.

Fonte : Disponível em: <https://g1.globo.com/mundo/noticia/numero-de-concessoes-de-refugio-no-brasil-cai-quase-30-em-um-ano.ghtml>. Acesso em: 19 set. 2018.

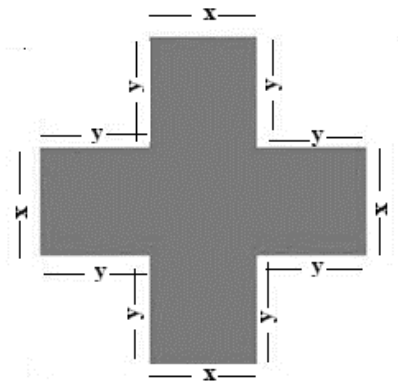
30) Supondo que, do número total desses refugiados, a quantidade de homens excede em 800 a quantidade de mulheres. O número total de mulheres refugiadas desse grupo é de

- 1066.
- 1256.
- 1689.
- 1866.

31) Supondo que o número de refugiados do Iêmen fosse 40% do número de refugiados sírios, o total de refugiados das sete nacionalidades seria

- 3048.
- 3924.
- 4104.
- 4124.

32) Para explorar assuntos de Matemática, em um trabalho sobre *O Comitê Internacional da Cruz Vermelha (CICV)*, os alunos utilizaram o símbolo oficial desse comitê. Na Figura 1, é possível visualizar as medidas da cruz que compõem o símbolo da entidade escolhida, cujos segmentos são de tamanho x mm e y mm. A expressão algébrica que determina a área sombreada da cruz, em mm^2 , é dada por

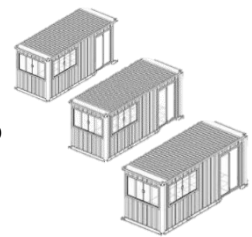


- a) $2xy + x^2$.
- b) $2xy + y^2$.
- c) $4xy + x^2$.
- d) $4xy + y^2$.

33) Um país que recebe refugiados tinha uma população de 10 milhões de habitantes e uma densidade demográfica de 80 hab/ km^2 . Após receber migrantes equivalentes a 20% de sua população, a densidade demográfica desse país mudou para

- a) 86 hab/ km^2 .
- b) 90 hab/ km^2 .
- c) 96 hab/ km^2 .
- d) 100 hab/ km^2 .

34) Uma alternativa empregada pela prefeitura de Berlim, na Alemanha, para receber famílias de refugiados foi a de criar vilas feitas com contêineres, em forma de paralelepípedo reto. Os contêineres usados têm medidas de base apoiada no solo aproximadas de 6 m de comprimento por 2,4 m de largura. A área do terreno ocupada por cada contêiner que irá abrigar uma família é



- a) $8,4 \text{ m}^2$.
- b) $9,4 \text{ m}^2$.
- c) $12,4 \text{ m}^2$.
- d) $14,4 \text{ m}^2$.

35) Para ajudar os imigrantes em campos de refugiados, um site oferece a possibilidade de doação para três entidades humanitárias diferentes. Em qualquer uma das três entidades, a doação é composta por um valor fixo mais um valor que será descontado, por dia, no cartão de crédito do doador, conforme mostra a Figura 2. Se uma pessoa pretende gastar R\$ 200,00 em doação, ao longo de mais de três meses, ela deve escolher a entidade humanitária

SIM, EU QUERO CONTRIBUIR COM ESSA CAUSA!







I		R\$ 36,00 mais R\$ 2,00 por dia =	AJUDA PARA FAMÍLIAS EM CAMPOS DE REFUGIADOS	
II		R\$ 45,50 mais R\$ 1,59 por dia =	AJUDA PARA FAMÍLIAS EM CAMPOS DE REFUGIADOS	
III		R\$ 120,00 mais R\$ 20,00 por dia =	AJUDA PARA FAMÍLIAS EM CAMPOS DE REFUGIADOS	

Figura 2

- a) I ou II.
- b) II ou III.
- c) Somente II.
- d) Somente III.

36) Uma das alternativas que os refugiados usam para chegar ao Velho Continente é por meio de embarcações superlotadas. Admitindo-se que uma embarcação deve comportar uma pessoa a cada 3m^2 , um barco com 12 m de comprimento por 4 m de largura poderia, no máximo, levar

- a) 20 pessoas.
- b) 18 pessoas.
- c) 16 pessoas.
- d) 14 pessoas.

37) Uma embarcação de refugiados, com destino a certo país, deveria navegar 40 km na direção norte para chegar ao seu destino. Devido ao mau tempo e à falta de instrumentos de navegação dessas embarcações, ela navegou 30 km na direção leste. A distância que a embarcação se encontra do seu destino é de

- a) 40 km.
- b) 50 km.
- c) 60 km.
- d) 70 km.

38) Para melhorar as perspectivas sociais de um grupo de refugiados, um banco resolveu conceder empréstimos, a juros simples, com taxa de 0,5% ao mês. Se um refugiado tomar emprestado o equivalente a R\$ 10.000,00 para pagar após 60 meses, o montante a ser pago será de

- a) R\$ 12.000,00.
- b) R\$ 13.000,00.
- c) R\$ 14.000,00.
- d) R\$ 15.000,00.

39) De um grupo de 40 refugiados, será escolhida uma pessoa para realizar uma pesquisa na Síria. Dos 40 refugiados, 5% são homens de olhos castanhos, 18 são mulheres de cabelos longos, 30% são homens de olhos azuis e o restante são mulheres de cabelos curtos. Escolhendo uma pessoa ao acaso, nesse grupo, a probabilidade de essa pessoa ser uma mulher de cabelo curto, é de


- a) 12%.
- b) 15%.
- c) 20%.
- d) 25%.

40) Em consulta a um mapa cartográfico da Síria, cuja escala é $1 : 3\,000\,000$, as cidades Damasco e Alepo distam entre si, em linha reta, aproximadamente 10 cm. Um novo mapa, dessa mesma região, será construído na escala $1 : 2\,000\,000$. Nesse novo registro cartográfico, a distância aproximada, em centímetros, considerando uma linha reta entre essas cidades, será

- a) 7,5.
- b) 12,5.
- c) 15.
- d) 20.



Figura 3



ORIENTAÇÕES PARA A PRODUÇÃO TEXTUAL ESCRITA

TEXTO 3

OS REFUGIADOS PERANTE O DIREITO NACIONAL E INTERNACIONAL

Narciso Machado

3 de Março de 2018, 6:38

“Um saco com os seus pertences não é a única coisa que um refugiado leva para o seu novo país. Einstein foi um refugiado”

(*excerto de um cartaz do ACNUR*)

Alguns países, diante do recente e gigantesco movimento migratório, optaram por uma resposta securitária, fortificando as suas fronteiras com muros e vedações, como aconteceu na Hungria e em Calais (França), em vez de uma abordagem mais humanitária, porque esse movimento migratório era constituído por famílias com muitas crianças e mulheres grávidas, a precisar de ajuda imediata.

De acordo com a Declaração Universal dos Direitos do Homem, aprovada em 1948, “toda pessoa sujeita à perseguição tem o direito de procurar e se beneficiar de asilo em outros países” (art. 14), direito reforçado pela Convenção Europeia dos Direitos do Homem, de 1950. [...] De acordo com o estatuto do ACNUR, a proteção do Alto Comissariado é extensiva “a qualquer pessoa que, devido a um receio fundamentado de ser perseguida, por motivos de raça, religião, nacionalidade ou opinião política, se encontre fora do seu país” e não tenha a proteção de um governo nacional.

Fonte: Disponível em:

<https://www.publico.pt/2018/03/03/sociedade/opiniao/os-refugiados-perante-o-direito-nacional-e-internacional-1805238>.

Acesso: 18 set. 2018.

TEXTO 4

O DRAMA DOS REFUGIADOS

O Estado de S. Paulo

25 Abril 2018 | 03h00

Continua a se agravar a situação em Boa Vista, Roraima, com a chegada de milhares de venezuelanos que fogem da grave crise em que o regime bolivariano mergulhou o seu país [...]. Em pouco mais de um ano, Boa Vista recebeu cerca de 40 mil refugiados, mais de 10% de sua população de 332 mil habitantes. [...]

O resultado disso são as péssimas condições [...] em que sobrevivem a duras penas os refugiados e, ao mesmo tempo, para piorar a situação, a resistência e os preconceitos de parte da população da capital de Roraima [...]

Grande parte dos refugiados mora nas ruas e praças, sem acesso a banheiros e água potável. Ao fim do horário de almoço, filas se formam nas portas dos restaurantes, à espera de restos de comida. Há os que tentam ganhar algum dinheiro prestando pequenos serviços, os que mendigam nos semáforos e uns poucos – é o que mostram as estatísticas da polícia – que praticam pequenos furtos. Sem falar no número crescente de jovens que se prostituem.

Fonte: Disponível em:

<https://opiniao.estadao.com.br/noticias/geral,o-dramados-refugiados,70002282754>. Acesso em: 18 set. 2018.

ORIENTAÇÕES E CRITÉRIOS DE CORREÇÃO

Considerando os textos desta prova, seu conhecimento prévio e a polêmica levantada pelos textos, escreva um artigo de opinião, assumindo um ponto de vista sobre a seguinte questão: Devemos acolher os imigrantes e os refugiados? Assine a sua produção textual com o pseudônimo de LEO MARLUS.

Para escrever seu texto, use, preferencialmente, caneta esferográfica de tinta preta, escreva com letra legível e identifique-se apenas no local indicado. Você poderá utilizar informações presentes na prova, sem, contudo, se limitar a copiar integralmente trechos desta avaliação, a não ser sob forma de citação. Além disso, não faça desenhos e/ou marcas na Folha de Resposta da questão discursiva.

Você será penalizado em até 10 (dez) pontos se, em sua produção textual, desrespeitar os direitos humanos.

Sua produção só será corrigida se tiver mais de 08 (oito) linhas autorais.

Lembre-se de que seu texto será avaliado, levando-se em consideração os seguintes critérios:

- a) produção do gênero textual proposto no comando da questão;
- b) presença de marcas características do gênero textual solicitado;
- c) uso da variedade linguística adequada ao gênero textual solicitado e à situação de comunicação;
- d) uso adequado de elementos coesivos;
- e) coerência entre o ponto de vista defendido e os argumentos apresentados;
- f) consistência argumentativa.

